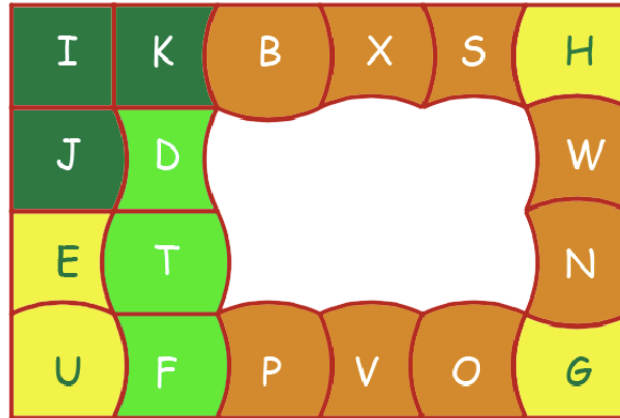


CURVICA FICHE RÉPONSE

Plateau 1 - Prélude 11

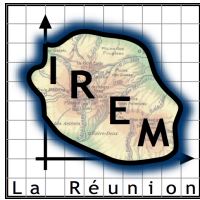
Pour jouer en ligne
<https://lc.cx/CurvicaGene>

Pour approfondir
https://lc.cx/Article_Curvica



Activité 1 : Ecrire les noms des 6 pièces totalement courbes pour remplir le prélude 11.

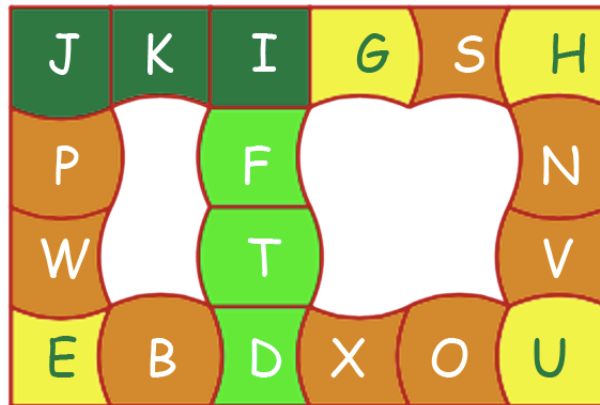
D'autres solutions ?



CURVICA
FICHE RÉPONSE
Plateau 1 - Prélude 12
6 pièces finales non connexes

Pour jouer en ligne
<https://lc.cx/CurvicaGene>


Pour approfondir
https://lc.cx/Article_Curvica



Activité 1 : Ecrire les noms des 6 pièces incurvées pour remplir le prélude 12.

<div style="border: 1px solid black; width: 40px; height: 40px; margin: 0 auto;"></div> <div style="border: 1px solid black; width: 40px; height: 40px; margin: 0 auto;"></div>	<div style="display: inline-block; border: 1px solid black; width: 40px; height: 40px; margin: 0 5px;"></div> <div style="display: inline-block; border: 1px solid black; width: 40px; height: 40px; margin: 0 5px;"></div> <div style="display: inline-block; border: 1px solid black; width: 40px; height: 40px; margin: 0 5px;"></div> <div style="display: inline-block; border: 1px solid black; width: 40px; height: 40px; margin: 0 5px;"></div>	<div style="border: 1px solid black; width: 40px; height: 40px; margin: 0 auto;"></div> <div style="border: 1px solid black; width: 40px; height: 40px; margin: 0 auto;"></div>	<div style="display: inline-block; border: 1px solid black; width: 40px; height: 40px; margin: 0 5px;"></div> <div style="display: inline-block; border: 1px solid black; width: 40px; height: 40px; margin: 0 5px;"></div> <div style="display: inline-block; border: 1px solid black; width: 40px; height: 40px; margin: 0 5px;"></div> <div style="display: inline-block; border: 1px solid black; width: 40px; height: 40px; margin: 0 5px;"></div>
---	---	---	---

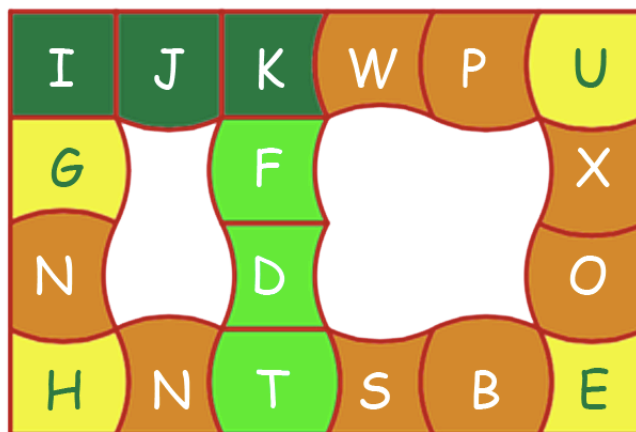
Autres solutions ?



CURVICA
FICHE RÉPONSE
 Plateau 1 - Prélude 13
 6 pièces finales non connexes

Pour jouer en ligne
<https://lc.cx/CurvicaGene>

Pour approfondir
https://lc.cx/Article_Curvica



Activité 1 : Ecrire les noms des 6 pièces courbées pour remplir le prélude 12.

<div style="border: 1px solid black; width: 40px; height: 40px; margin: 5px;"></div>	<div style="border: 1px solid black; width: 40px; height: 40px; margin: 5px;"></div>	<div style="border: 1px solid black; width: 40px; height: 40px; margin: 5px;"></div>	<div style="border: 1px solid black; width: 40px; height: 40px; margin: 5px;"></div>
<div style="border: 1px solid black; width: 40px; height: 40px; margin: 5px;"></div>	<div style="border: 1px solid black; width: 40px; height: 40px; margin: 5px;"></div>	<div style="border: 1px solid black; width: 40px; height: 40px; margin: 5px;"></div>	<div style="border: 1px solid black; width: 40px; height: 40px; margin: 5px;"></div>

Autres solutions ?

...